


# ZÁVĚREČNÝ TEST Z HUDEBNÍ NAUKY


## 2.ROČNÍK

Jméno.....


1) Doplň názvy not:





2) Doplň chybějící béčka:




3) Doplň tóny stupnice, vyznač oba půltóny a za stupnicí napiš správný akord:



4)

Ve  $\frac{3}{8}$  taktu počítáme  na ..... dobu,  na ..... doby.


5) Označ takty, které jsou správně ( jsou ve tříosminovém taktu):



6) Co patří k sobě? ( spoj čarou)

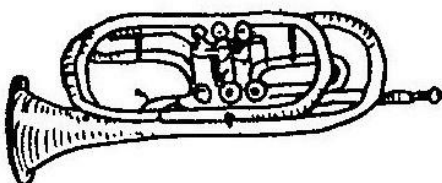
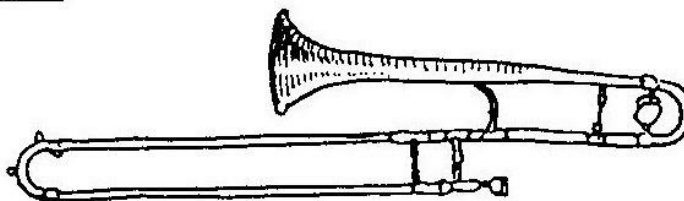


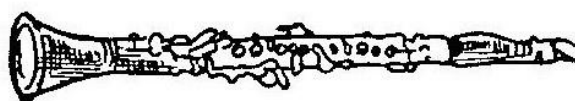
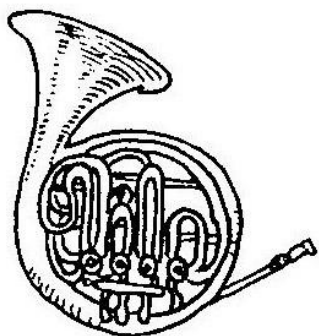
moderato	pomalu	F dur	3#
allegro	mírně	A dur	1b
adagio	zpomalovat	G dur	4b
ritardando	rychle	As dur	1#

7) Podle názvu intervalů doplň druhou (vrchní) notu:



PRIMA      TERCIE      KVINTA      SEKUNDA      KVARTA

8) Doplň názvy těchto dechových nástrojů:



9) Popiš mi svůj hudební nástroj: